



ครูย์ www.ontous.info

ชื่อ-สกุล			
ชั้นเรียน		เลขที่	
คะแนนที่ได้		วันที่	

แบบฝึกวิชาคณิตศาสตร์ เรื่อง โจทย์ปัญหาการบวก ตัวเลขสองจำนวน (เลขหลักสิบ)

คำชี้แจง : ให้นักเรียนหาคำตอบจากโจทย์คำถามให้ถูกต้อง

1. ไทยมีวัว 58 ตัว ป้าให้มาอีก 68 ตัว ไทยจะมีวัวทั้งหมดเท่าใด

ประโยคสัญลักษณ์ _____

ตอบ _____

2. เอทมีปากกา 71 แท่ง ตาให้มาอีก 99 แท่ง เอทจะมีปากกาทั้งหมดเท่าใด

ประโยคสัญลักษณ์ _____

ตอบ _____

3. เอสมีแล็ปท็อป 69 เครื่อง แม่ให้มาอีก 71 เครื่อง เอสจะมีแล็ปท็อปทั้งหมดเท่าใด

ประโยคสัญลักษณ์ _____

ตอบ _____

4. ท้อปมีไก่ 76 ตัว สุชาติแบ่งให้ 25 ตัว ท้อปจะมีไก่ทั้งหมดเท่าใด

ประโยคสัญลักษณ์ _____

ตอบ _____

5. ทองมีดินสอ 78 แท่ง ตาเอามาให้ 23 แท่ง ทองจะมีดินสอทั้งหมดเท่าใด

ประโยคสัญลักษณ์ _____

ตอบ _____



ครูย์ www.ontous.info

ชื่อ-สกุล			
ชั้นเรียน		เลขที่	
คะแนนที่ได้		วันที่	

แบบฝึกวิชาคณิตศาสตร์ เรื่อง โจทย์ปัญหาการบวก ตัวเลขสองจำนวน (เลขหลักสิบ)

คำชี้แจง : ให้นักเรียนหาคำตอบจากโจทย์คำถามให้ถูกต้อง

6. บัปมีม้า 68 ตัว ยาซื้อให้ 52 ตัว บัปจะมีม้าทั้งหมดเท่าใด

ประโยคสัญลักษณ์ _____

ตอบ _____

7. จุหลินมีตุ๋เย็น 70 เครื่อง น้องนำมาให้ 57 เครื่อง จุหลินจะมีตุ๋เย็นทั้งหมดเท่าใด

ประโยคสัญลักษณ์ _____

ตอบ _____

8. แอร์มีสีไม้ 10 แท่ง ยาซื้อให้ 51 แท่ง แอร์จะมีสีไม้ทั้งหมดเท่าใด

ประโยคสัญลักษณ์ _____

ตอบ _____

9. ทวนมีผ้าเช็ดโต๊ะ 32 ผืน นำให้มาอีก 55 ผืน ทวนจะมีผ้าเช็ดโต๊ะทั้งหมดเท่าใด

ประโยคสัญลักษณ์ _____

ตอบ _____

10. ทรัสต์มีตู้ไปรษณีย์ 85 ตู้ สุชาติซื้อให้เพิ่ม 27 ตู้ ทรัสต์จะมีตู้ไปรษณีย์ทั้งหมดเท่าใด

ประโยคสัญลักษณ์ _____

ตอบ _____



ครูย์ www.ontous.info

ชื่อ-สกุล			
ชั้นเรียน		เลขที่	
คะแนนที่ได้		วันที่	

แบบฝึกวิชาคณิตศาสตร์ เรื่อง โจทย์ปัญหาการบวก ตัวเลขสองจำนวน (เลขหลักสิบ)

คำชี้แจง : ให้นักเรียนหาคำตอบจากโจทย์คำถามให้ถูกต้อง

11. บุธมีกล่องใส 40 ชิ้น สุชาติให้เพิ่ม 18 ชิ้น บุธจะมีกล่องใสทั้งหมดเท่าใด

ประโยคสัญลักษณ์ _____

ตอบ _____

12. เอียดมีปากกาไฮไลท์ 33 แท่ง ป้าให้มาอีก 68 แท่ง เอียดจะมีปากกาไฮไลท์ทั้งหมดเท่าใด

ประโยคสัญลักษณ์ _____

ตอบ _____

13. เอี้ยวมีกระดานดำ 44 แผ่น แม่ให้เพิ่ม 39 แผ่น เอี้ยวจะมีกระดานดำทั้งหมดเท่าใด

ประโยคสัญลักษณ์ _____

ตอบ _____

14. กาเล็กซีมีวัว 40 ตัว ลุงซื้อให้ 32 ตัว กาเล็กซีจะมีวัวทั้งหมดเท่าใด

ประโยคสัญลักษณ์ _____

ตอบ _____

15. แจ็กสันมีวงเวียน 12 อัน น้านำมาให้ 86 อัน แจ็กสันจะมีวงเวียนทั้งหมดเท่าใด

ประโยคสัญลักษณ์ _____

ตอบ _____



ครูย์ www.ontous.info

ชื่อ-สกุล			
ชั้นเรียน		เลขที่	
คะแนนที่ได้		วันที่	

แบบฝึกวิชาคณิตศาสตร์ เรื่อง โจทย์ปัญหาการบวก ตัวเลขสองจำนวน (เลขหลักสิบ)

คำชี้แจง : ให้นักเรียนหาคำตอบจากโจทย์คำถามให้ถูกต้อง

16. ต้าเพ็งมีป้ายห้อยบัตร 86 อัน ลุงเอาให้ 92 อัน ต้าเพ็งจะมีป้ายห้อยบัตรทั้งหมดเท่าใด
ประโยคสัญลักษณ์ _____

ตอบ _____

17. กาสีโนมีน้ำยาถูพื้น 98 ขวด น้องนำมาให้ 48 ขวด กาสีโนจะมีน้ำยาถูพื้นทั้งหมดเท่าใด
ประโยคสัญลักษณ์ _____

ตอบ _____

18. อ้ายมีช่าง 65 ตัว ย่าเอาให้ 56 ตัว อ้ายจะมีช่างทั้งหมดเท่าใด
ประโยคสัญลักษณ์ _____

ตอบ _____

19. จินถงมีผ้ามา่าน 10 ชิ้น ปู่ซื้อให้ 57 ชิ้น จินถงจะมีผ้ามา่านทั้งหมดเท่าใด
ประโยคสัญลักษณ์ _____

ตอบ _____

20. ตามฝันมีหนังสือตึก 16 เล่ม เพื่อนซื้อให้เพิ่ม 15 เล่ม ตามฝันจะมีหนังสือตึกทั้งหมดเท่าใด
ประโยคสัญลักษณ์ _____

ตอบ _____



ครูย์ www.ontous.info

ชื่อ-สกุล			
ชั้นเรียน		เลขที่	
คะแนนที่ได้		วันที่	

แบบฝึกวิชาคณิตศาสตร์ เรื่อง โจทย์ปัญหาการบวก ตัวเลขสองจำนวน (เลขหลักสิบ)

คำชี้แจง : ให้นักเรียนหาคำตอบจากโจทย์คำถามให้ถูกต้อง

21. อะมีไฟฉาย 59 กระบอก ป้าเอาให้ 43 กระบอก อะจะมีไฟฉายทั้งหมดเท่าใด
ประโยคสัญลักษณ์ _____

ตอบ _____

22. ไทม์มีถาดโต๊ะ 72 อัน ปู่ให้เพิ่ม 15 อัน ไทม์จะมีถาดโต๊ะทั้งหมดเท่าใด
ประโยคสัญลักษณ์ _____

ตอบ _____

23. กอไผ่มีภาพนก 75 แผ่น ปู่เอาให้ 12 แผ่น กอไผ่จะมีภาพนกทั้งหมดเท่าใด
ประโยคสัญลักษณ์ _____

ตอบ _____

24. ฮาห์เนียมมีสติ๊กเกอร์ 83 ชิ้น อาแบ่งให้ 83 ชิ้น ฮาห์เนียมจะมีสติ๊กเกอร์ทั้งหมดเท่าใด
ประโยคสัญลักษณ์ _____

ตอบ _____

25. บุตรมีโต๊ะประชุม 71 ตัว ปู่ซื้อให้ 29 ตัว บุตรจะมีโต๊ะประชุมทั้งหมดเท่าใด
ประโยคสัญลักษณ์ _____

ตอบ _____



ครูย์ www.ontous.info

ชื่อ-สกุล			
ชั้นเรียน		เลขที่	
คะแนนที่ได้		วันที่	

แบบฝึกวิชาคณิตศาสตร์ เรื่อง โจทย์ปัญหาการบวก ตัวเลขสองจำนวน (เลขหลักสิบ)

คำชี้แจง : ให้นักเรียนหาคำตอบจากโจทย์คำถามให้ถูกต้อง

26. ต้าอันมีสมุดบันทึก 21 เล่ม เพื่อนนำมาให้ 57 เล่ม ต้าอันจะมีสมุดบันทึกทั้งหมดเท่าใด
ประโยคสัญลักษณ์ _____

ตอบ _____

27. จินซานมีเครื่องคิดเลข 47 เครื่อง ย่าเอาให้ 20 เครื่อง จินซานจะมีเครื่องคิดเลขทั้งหมดเท่าใด
ประโยคสัญลักษณ์ _____

ตอบ _____

28. อีสมีกระดานดำ 53 แผ่น พ่อให้มาอีก 33 แผ่น อีสจะมีกระดานดำทั้งหมดเท่าใด
ประโยคสัญลักษณ์ _____

ตอบ _____

29. ตองยีมีแสตมป์ 16 ดวง อาเอามาให้ 63 ดวง ตองยีจะมีแสตมป์ทั้งหมดเท่าใด
ประโยคสัญลักษณ์ _____

ตอบ _____

30. ภูมิดินสอ 54 แท่ง เพื่อนเอาให้ 72 แท่ง ภูมิจจะมีดินสอทั้งหมดเท่าใด
ประโยคสัญลักษณ์ _____

ตอบ _____



ครูย์ www.ontous.info

ชื่อ-สกุล			
ชั้นเรียน		เลขที่	
คะแนนที่ได้		วันที่	

แบบฝึกวิชาคณิตศาสตร์ เรื่อง โจทย์ปัญหาการบวก ตัวเลขสองจำนวน (เลขหลักสิบ)

คำชี้แจง : ให้นักเรียนหาคำตอบจากโจทย์คำถามให้ถูกต้อง

31. เบย์มีที่สำรองไฟ 76 เครื่อง สุชาติซื้อให้ 39 เครื่อง เบย์จะมีที่สำรองไฟทั้งหมดเท่าใด
ประโยคสัญลักษณ์ _____

ตอบ _____

32. แท่งมีเครื่องคิดเลข 76 เครื่อง ลุงเอามาให้ 24 เครื่อง แท่งจะมีเครื่องคิดเลขทั้งหมดเท่าใด
ประโยคสัญลักษณ์ _____

ตอบ _____

33. บลอนด์มีกระดาน 60 แผ่น ตาซื้อให้ 29 แผ่น บลอนด์จะมีกระดานทั้งหมดเท่าใด
ประโยคสัญลักษณ์ _____

ตอบ _____

34. ทามมีเทปกาว 89 ม้วน ย่านำมาให้ 97 ม้วน ทามจะมีเทปกาวทั้งหมดเท่าใด
ประโยคสัญลักษณ์ _____

ตอบ _____

35. ไต้เท้ามีหมุด 47 ตัว ย่าให้เพิ่ม 84 ตัว ไต้เท้าจะมีหมุดทั้งหมดเท่าใด
ประโยคสัญลักษณ์ _____

ตอบ _____



ครูย์ www.ontous.info

ชื่อ-สกุล			
ชั้นเรียน		เลขที่	
คะแนนที่ได้		วันที่	

แบบฝึกวิชาคณิตศาสตร์ เรื่อง โจทย์ปัญหาการบวก ตัวเลขสองจำนวน (เลขหลักสิบ)

คำชี้แจง : ให้นักเรียนหาคำตอบจากโจทย์คำถามให้ถูกต้อง

36. บัปมีตู้ไปรษณีย์ 21 ตู้ พ่อแบ่งให้ 58 ตู้ บัปจะมีตู้ไปรษณีย์ทั้งหมดเท่าใด
ประโยคสัญลักษณ์ _____

ตอบ _____

37. บักมีแฟลชไดรฟ์ 46 อัน ปู่ซื้อให้ 45 อัน บักจะมีแฟลชไดรฟ์ทั้งหมดเท่าใด
ประโยคสัญลักษณ์ _____

ตอบ _____

38. แก้มบุ่มมีกาแฟ 89 ซอง ยายเอามาให้ 24 ซอง แก้มบุ่มจะมีกาแฟทั้งหมดเท่าใด
ประโยคสัญลักษณ์ _____

ตอบ _____

39. ภาวมีกรรไกร 50 อัน ย่าแบ่งให้ 37 อัน ภาวจะมีกรรไกรทั้งหมดเท่าใด
ประโยคสัญลักษณ์ _____

ตอบ _____

40. อันมีตู้เย็น 65 เครื่อง เพื่อนเอามาให้ 27 เครื่อง อันจะมีตู้เย็นทั้งหมดเท่าใด
ประโยคสัญลักษณ์ _____

ตอบ _____



ครูย์ www.ontous.info

ชื่อ-สกุล			
ชั้นเรียน		เลขที่	
คะแนนที่ได้		วันที่	

แบบฝึกวิชาคณิตศาสตร์ เรื่อง โจทย์ปัญหาการบวก ตัวเลขสองจำนวน (เลขหลักสิบ)

คำชี้แจง : ให้นักเรียนหาคำตอบจากโจทย์คำถามให้ถูกต้อง

41. บอลมีภาพนก 35 แผ่น ตาเอาให้ 77 แผ่น บอลจะมีภาพนกทั้งหมดเท่าใด
ประโยคสัญลักษณ์ _____

ตอบ _____

42. บลูมีนาฬิกา 24 อัน ตาซื้อให้เพิ่ม 64 อัน บลูจะมีนาฬิกาทั้งหมดเท่าใด
ประโยคสัญลักษณ์ _____

ตอบ _____

43. อี๊กมีนาฬิกา 44 อัน ย่าซื้อให้เพิ่ม 44 อัน อี๊กจะมีนาฬิกาทั้งหมดเท่าใด
ประโยคสัญลักษณ์ _____

ตอบ _____

44. ทอยมีไก่ 64 ตัว อาซื้อให้เพิ่ม 86 ตัว ทอยจะมีไก่ทั้งหมดเท่าใด
ประโยคสัญลักษณ์ _____

ตอบ _____

45. ภาพมีหมึกพิมพ์ 15 ตลับ พ่อเอาให้ 69 ตลับ ภาพจะมีหมึกพิมพ์ทั้งหมดเท่าใด
ประโยคสัญลักษณ์ _____

ตอบ _____



ครูโยย www.ontous.info

ชื่อ-สกุล			
ชั้นเรียน		เลขที่	
คะแนนที่ได้		วันที่	

แบบฝึกวิชาคณิตศาสตร์ เรื่อง โจทย์ปัญหาการบวก ตัวเลขสองจำนวน (เลขหลักสิบ)

คำชี้แจง : ให้นักเรียนหาคำตอบจากโจทย์คำถามให้ถูกต้อง

46. ฮังการีมีป้ายชื่อ 55 อัน แม่ให้เพิ่ม 45 อัน ฮังการีจะมีป้ายชื่อทั้งหมดเท่าใด

ประโยคสัญลักษณ์ _____

ตอบ _____

47. กีบซีมีปลีกพวง 50 อัน น้องให้มาอีก 88 อัน กีบซีจะมีปลีกพวงทั้งหมดเท่าใด

ประโยคสัญลักษณ์ _____

ตอบ _____

48. ตุตงมีถังขยะ 67 อัน น้ำซื้อให้เพิ่ม 87 อัน ตุตงจะมีถังขยะทั้งหมดเท่าใด

ประโยคสัญลักษณ์ _____

ตอบ _____

49. บัพมีแสตมป์ 88 ดวง เพื่อนเอาให้ 63 ดวง บัพจะมีแสตมป์ทั้งหมดเท่าใด

ประโยคสัญลักษณ์ _____

ตอบ _____

50. บ้านมีที่สำรวจไฟ 94 เครื่อง พ่อให้มาอีก 15 เครื่อง บ้านจะมีที่สำรวจไฟทั้งหมดเท่าใด

ประโยคสัญลักษณ์ _____

ตอบ _____



ครูย์ www.ontous.info

ชื่อ-สกุล			
ชั้นเรียน		เลขที่	
คะแนนที่ได้		วันที่	

แบบฝึกวิชาคณิตศาสตร์ เรื่อง โจทย์ปัญหาการบวก ตัวเลขสองจำนวน (เลขหลักสิบ)

คำชี้แจง : ให้นักเรียนหาคำตอบจากโจทย์คำถามให้ถูกต้อง

51. บาสมีม้า 79 ตัว อาซื้อให้ 99 ตัว บาสจะมีม้าทั้งหมดเท่าใด

ประโยคสัญลักษณ์ _____

ตอบ _____

52. บิ๊กมีไก่ 77 ตัว ป้าเอาให้ 81 ตัว บิ๊กจะมีไก่ทั้งหมดเท่าใด

ประโยคสัญลักษณ์ _____

ตอบ _____

53. กัมมีมีสุนัข 28 ตัว ตาแบ่งให้ 39 ตัว กัมมีจะมีสุนัขทั้งหมดเท่าใด

ประโยคสัญลักษณ์ _____

ตอบ _____

54. บุงมีกล่องใส 99 กล่อง ยายให้เพิ่ม 39 กล่อง บุงจะมีกล่องใสทั้งหมดเท่าใด

ประโยคสัญลักษณ์ _____

ตอบ _____

55. จินไฉ่มีกาแฟ 85 ซอง น้ำซื้อให้ 55 ซอง จินไฉ่จะมีกาแฟทั้งหมดเท่าใด

ประโยคสัญลักษณ์ _____

ตอบ _____



ครูโยย www.ontous.info

ชื่อ-สกุล			
ชั้นเรียน		เลขที่	
คะแนนที่ได้		วันที่	

แบบฝึกวิชาคณิตศาสตร์ เรื่อง โจทย์ปัญหาการบวก ตัวเลขสองจำนวน (เลขหลักสิบ)

คำชี้แจง : ให้นักเรียนหาคำตอบจากโจทย์คำถามให้ถูกต้อง

56. ทิพมีถุงชยะ 35 ถุง อาให้เพิ่ม 97 ถุง ทิพจะมีถุงชยะทั้งหมดเท่าใด

ประโยคสัญลักษณ์ _____

ตอบ _____

57. กอบัวมีโคมไฟ 66 อัน นำนามาให้ 45 อัน กอบัวจะมีโคมไฟทั้งหมดเท่าใด

ประโยคสัญลักษณ์ _____

ตอบ _____

58. บุงมีสุนัข 85 ตัว อาเอาให้ 30 ตัว บุงจะมีสุนัขทั้งหมดเท่าใด

ประโยคสัญลักษณ์ _____

ตอบ _____

59. ท้อปมีชอล์ก 38 อัน พ่อเอาให้ 55 อัน ท้อปจะมีชอล์กทั้งหมดเท่าใด

ประโยคสัญลักษณ์ _____

ตอบ _____

60. จิ้นเปี้ยมีกาแฟ 80 ซอง เพื่อนซื้อให้เพิ่ม 42 ซอง จิ้นเปี้ยจะมีกาแฟทั้งหมดเท่าใด

ประโยคสัญลักษณ์ _____

ตอบ _____



ครูย์ www.ontous.info

ชื่อ-สกุล			
ชั้นเรียน		เลขที่	
คะแนนที่ได้		วันที่	

แบบฝึกวิชาคณิตศาสตร์ เรื่อง โจทย์ปัญหาการบวก ตัวเลขสองจำนวน (เลขหลักสิบ)

คำชี้แจง : ให้นักเรียนหาคำตอบจากโจทย์คำถามให้ถูกต้อง

61. ตัวนี้มีโปรเจคเตอร์ 10 เครื่อง ตาเอามาให้ 56 เครื่อง ตัวนี้จะมีโปรเจคเตอร์ทั้งหมดเท่าใด
ประโยคสัญลักษณ์ _____

ตอบ _____

62. ฮยอนอามีหมุด 65 ตัว คุณครูให้เพิ่ม 52 ตัว ฮยอนอามีหมุดทั้งหมดเท่าใด
ประโยคสัญลักษณ์ _____

ตอบ _____

63. เบย์มีถังดับเพลิง 74 อัน น้องเอามาให้ 95 อัน เบย์จะมีถังดับเพลิงทั้งหมดเท่าใด
ประโยคสัญลักษณ์ _____

ตอบ _____

64. บินมีกรรไกร 51 อัน ลุงให้มาอีก 69 อัน บินจะมีกรรไกรทั้งหมดเท่าใด
ประโยคสัญลักษณ์ _____

ตอบ _____

65. กะละแมมีสติ๊กเกอร์ 45 ชิ้น ป้าให้เพิ่ม 94 ชิ้น กะละแมจะมีสติ๊กเกอร์ทั้งหมดเท่าใด
ประโยคสัญลักษณ์ _____

ตอบ _____



ครูย์ www.ontous.info

ชื่อ-สกุล			
ชั้นเรียน		เลขที่	
คะแนนที่ได้		วันที่	

แบบฝึกวิชาคณิตศาสตร์ เรื่อง โจทย์ปัญหาการบวก ตัวเลขสองจำนวน (เลขหลักสิบ)

คำชี้แจง : ให้นักเรียนหาคำตอบจากโจทย์คำถามให้ถูกต้อง

66. เอมมีแสดมภ์ 68 ดวง อาแบ่งให้ 16 ดวง เอมจะมีแสดมภ์ทั้งหมดเท่าใด

ประโยคสัญลักษณ์ _____

ตอบ _____

67. ต้าเหนงมีกรรไกร 47 อัน ต้าให้เพิ่ม 50 อัน ต้าเหนงจะมีกรรไกรทั้งหมดเท่าใด

ประโยคสัญลักษณ์ _____

ตอบ _____

68. อีสมีถาดโต๊ะ 12 อัน ย่าแบ่งให้ 69 อัน อีสจะมีถาดโต๊ะทั้งหมดเท่าใด

ประโยคสัญลักษณ์ _____

ตอบ _____

69. บรามีสุนัข 40 ตัว เพื่อนเอาให้ 19 ตัว บรามีสุนัขทั้งหมดเท่าใด

ประโยคสัญลักษณ์ _____

ตอบ _____

70. บ้อมบริงค์มียางลบ 97 ก้อน ต้าให้มาอีก 44 ก้อน บ้อมบริงค์จะมียางลบทั้งหมดเท่าใด

ประโยคสัญลักษณ์ _____

ตอบ _____



ครูย์ www.ontous.info

ชื่อ-สกุล			
ชั้นเรียน		เลขที่	
คะแนนที่ได้		วันที่	

แบบฝึกวิชาคณิตศาสตร์ เรื่อง โจทย์ปัญหาการบวก ตัวเลขสองจำนวน (เลขหลักสิบ)

คำชี้แจง : ให้นักเรียนหาคำตอบจากโจทย์คำถามให้ถูกต้อง

71. การชมิน้ำดื่ม 86 ขวด นำเอามาให้ 30 ขวด การชจะมีน้ำดื่มทั้งหมดเท่าใด

ประโยคสัญลักษณ์ _____

ตอบ _____

72. ท้อปมีแสดมภ์ 74 ดวง แม่แบ่งให้ 89 ดวง ท้อปจะมีแสดมภ์ทั้งหมดเท่าใด

ประโยคสัญลักษณ์ _____

ตอบ _____

73. แอ้คมีแฟลชไดรฟ์ 80 อัน อาซื้อให้เพิ่ม 38 อัน แอ้คจะมีแฟลชไดรฟ์ทั้งหมดเท่าใด

ประโยคสัญลักษณ์ _____

ตอบ _____

74. ยีมีสติ๊กเกอร์ 40 ชิ้น บู่ให้มาอีก 55 ชิ้น ยีจะมีสติ๊กเกอร์ทั้งหมดเท่าใด

ประโยคสัญลักษณ์ _____

ตอบ _____

75. บุงมีสติ๊กเกอร์ 75 ชิ้น สุชาติเอาให้ 26 ชิ้น บุงจะมีสติ๊กเกอร์ทั้งหมดเท่าใด

ประโยคสัญลักษณ์ _____

ตอบ _____



ครูย์ www.ontous.info

ชื่อ-สกุล			
ชั้นเรียน		เลขที่	
คะแนนที่ได้		วันที่	

แบบฝึกวิชาคณิตศาสตร์ เรื่อง โจทย์ปัญหาการบวก ตัวเลขสองจำนวน (เลขหลักสิบ)

คำชี้แจง : ให้นักเรียนหาคำตอบจากโจทย์คำถามให้ถูกต้อง

76. เอี้ยงมีที่สำรองไฟ 75 เครื่อง นำให้มาอีก 80 เครื่อง เอี้ยงจะมีที่สำรองไฟทั้งหมดเท่าใด
ประโยคสัญลักษณ์ _____

ตอบ _____

77. ที่มีผ้าเช็ดโต๊ะ 72 ผืน ปุ๋นนำมาให้ 45 ผืน ที่จะมีผ้าเช็ดโต๊ะทั้งหมดเท่าใด
ประโยคสัญลักษณ์ _____

ตอบ _____

78. แอมมีปากกาไฮไลต์ 40 แท่ง น้องเอาให้ 87 แท่ง แอมจะมีปากกาไฮไลต์ทั้งหมดเท่าใด
ประโยคสัญลักษณ์ _____


ตอบ _____

79. บอร์ดมีแก้ว 27 ใบ คุณครูเอาให้ 61 ใบ บอร์ดจะมีแก้วทั้งหมดเท่าใด
ประโยคสัญลักษณ์ _____

ตอบ _____

80. ยุกต์มีวัว 91 ตัว ปุ๋นซื้อให้เพิ่ม 90 ตัว ยุกต์จะมีวัวทั้งหมดเท่าใด
ประโยคสัญลักษณ์ _____

ตอบ _____



ครูโยย www.ontous.info

ชื่อ-สกุล			
ชั้นเรียน		เลขที่	
คะแนนที่ได้		วันที่	

แบบฝึกวิชาคณิตศาสตร์ เรื่อง โจทย์ปัญหาการบวก ตัวเลขสองจำนวน (เลขหลักสิบ)

คำชี้แจง : ให้นักเรียนหาคำตอบจากโจทย์คำถามให้ถูกต้อง

81. บินมีเครื่องสำเนา 13 เครื่อง ป้าเอาให้ 38 เครื่อง บินจะมีเครื่องสำเนาทั้งหมดเท่าใด
ประโยคสัญลักษณ์ _____

ตอบ _____

82. ภูมิมีแฟลชไดรฟ์ 86 อัน ตาให้เพิ่ม 94 อัน ภูมิจจะมีแฟลชไดรฟ์ทั้งหมดเท่าใด
ประโยคสัญลักษณ์ _____

ตอบ _____

83. อีมีฮาร์ดดิสก์ 20 อัน แม่แบ่งให้ 20 อัน อีจะมีฮาร์ดดิสก์ทั้งหมดเท่าใด
ประโยคสัญลักษณ์ _____

ตอบ _____

84. บีมีดินสอ 11 แท่ง ป้าซื้อให้ 16 แท่ง บีจะมีดินสอทั้งหมดเท่าใด
ประโยคสัญลักษณ์ _____

ตอบ _____

85. โบว์มีไมโครเวฟ 14 เครื่อง ตาเอามาให้ 31 เครื่อง โบว์จะมีไมโครเวฟทั้งหมดเท่าใด
ประโยคสัญลักษณ์ _____

ตอบ _____



ครูโยย www.ontous.info

ชื่อ-สกุล			
ชั้นเรียน		เลขที่	
คะแนนที่ได้		วันที่	

แบบฝึกวิชาคณิตศาสตร์ เรื่อง โจทย์ปัญหาการบวก ตัวเลขสองจำนวน (เลขหลักสิบ)

คำชี้แจง : ให้นักเรียนหาคำตอบจากโจทย์คำถามให้ถูกต้อง

86. ตัวแรวมีหนุตะเกา 35 ตัว ป้าให้เพิ่ม 14 ตัว ตัวแรวจะมีหนุตะเกาทั้งหมดเท่าใด
ประโยคสัญลักษณ์ _____

ตอบ _____

87. เจสันมีแมว 53 ตัว ลุงเอามาให้ 57 ตัว เจสันจะมีแมวทั้งหมดเท่าใด
ประโยคสัญลักษณ์ _____

ตอบ _____

88. ภูมีถาดโต๊ะ 58 อัน น้ำให้เพิ่ม 76 อัน ภูจะมีถาดโต๊ะทั้งหมดเท่าใด
ประโยคสัญลักษณ์ _____

ตอบ _____

89. บลูมีกระดาษสี 27 แผ่น ป้าซื้อให้ 28 แผ่น บลูจะมีกระดาษสีทั้งหมดเท่าใด
ประโยคสัญลักษณ์ _____

ตอบ _____

90. ต้าเฟิงมีข้าง 84 ตัว ตาแบ่งให้ 51 ตัว ต้าเฟิงจะมีข้างทั้งหมดเท่าใด
ประโยคสัญลักษณ์ _____

ตอบ _____



ครูโยย www.ontous.info

ชื่อ-สกุล			
ชั้นเรียน		เลขที่	
คะแนนที่ได้		วันที่	

แบบฝึกวิชาคณิตศาสตร์ เรื่อง โจทย์ปัญหาการบวก ตัวเลขสองจำนวน (เลขหลักสิบ)

คำชี้แจง : ให้นักเรียนหาคำตอบจากโจทย์คำถามให้ถูกต้อง

91. โจเซฟมีม้า 72 ตัว บ้าให้มาอีก 79 ตัว โจเซฟจะมีม้าทั้งหมดเท่าใด

ประโยคสัญลักษณ์ _____

ตอบ _____

92. เบธมีกระดาษชำระ 53 ชิ้น ยายเอามาให้ 34 ชิ้น เบธจะมีกระดาษชำระทั้งหมดเท่าใด

ประโยคสัญลักษณ์ _____

ตอบ _____

93. บัทม์มีสแกนเนอร์ 74 เครื่อง ตาซื้อให้เพิ่ม 11 เครื่อง บัทม์จะมีสแกนเนอร์ทั้งหมดเท่าใด

ประโยคสัญลักษณ์ _____

ตอบ _____

94. เทรียร์มีต้นไม้ 70 ต้น น้องแบ่งให้ 32 ต้น เทรียร์จะมีต้นไม้ทั้งหมดเท่าใด


ประโยคสัญลักษณ์ _____

ตอบ _____

95. ฮยอนอามีภาพนก 87 แผ่น ยายซื้อให้ 35 แผ่น ฮยอนอามีภาพนกทั้งหมดเท่าใด

ประโยคสัญลักษณ์ _____

ตอบ _____



ครูย์ www.ontous.info

ชื่อ-สกุล			
ชั้นเรียน		เลขที่	
คะแนนที่ได้		วันที่	

แบบฝึกวิชาคณิตศาสตร์ เรื่อง โจทย์ปัญหาการบวก ตัวเลขสองจำนวน (เลขหลักสิบ)

คำชี้แจง : ให้นักเรียนหาคำตอบจากโจทย์คำถามให้ถูกต้อง

96. บวยมี่เครื่องพิมพ์ 25 เครื่อง อาให้เพิ่ม 46 เครื่อง บวยมี่เครื่องพิมพ์ทั้งหมดเท่าใด
ประโยคสัญลักษณ์ _____

ตอบ _____

97. จินขางมีปลั๊กพ่วง 53 อัน ยายซื้อให้ 28 อัน จินขางจะมีปลั๊กพ่วงทั้งหมดเท่าใด
ประโยคสัญลักษณ์ _____

ตอบ _____

98. ทิคมีตู้ไปรษณีย์ 62 ตู้ แม่เอามาให้ 10 ตู้ ทิคจะมีตู้ไปรษณีย์ทั้งหมดเท่าใด
ประโยคสัญลักษณ์ _____

ตอบ _____

99. อี้ดมีถ้วย 62 อัน อาเอาให้ 41 อัน อี้ดจะมีถ้วยทั้งหมดเท่าใด
ประโยคสัญลักษณ์ _____

ตอบ _____

100. ฮยอนอามีเครื่องพิมพ์ 64 เครื่อง อาซื้อให้เพิ่ม 40 เครื่อง ฮยอนอามีเครื่องพิมพ์ทั้งหมดเท่าใด
ประโยคสัญลักษณ์ _____

ตอบ _____

เฉลย



ครูย์ www.ontous.info

ชื่อ-สกุล			
ชั้นเรียน		เลขที่	
คะแนนที่ได้		วันที่	

แบบฝึกวิชาคณิตศาสตร์ เรื่อง โจทย์ปัญหาการบวก ตัวเลขสองจำนวน (เลขหลักสิบ)

คำชี้แจง : ให้นักเรียนหาคำตอบจากโจทย์คำถามให้ถูกต้อง

1. ไทยมีวัว 58 ตัว ป้าให้มาอีก 68 ตัว ไทยจะมีวัวทั้งหมดเท่าใด

ประโยคสัญลักษณ์ $58 + 68 = ?$

ตอบ 126

2. เอทมีปากกา 71 แท่ง ตาให้มาอีก 99 แท่ง เอทจะมีปากกาทั้งหมดเท่าใด

ประโยคสัญลักษณ์ $71 + 99 = ?$

ตอบ 170

3. เอสมีแล็ปท็อป 69 เครื่อง แม่ให้มาอีก 71 เครื่อง เอสจะมีแล็ปท็อปทั้งหมดเท่าใด

ประโยคสัญลักษณ์ $69 + 71 = ?$

ตอบ 140

4. ท้อปมีไก่ 76 ตัว สุชาติแบ่งให้ 25 ตัว ท้อปจะมีไก่ทั้งหมดเท่าใด


ประโยคสัญลักษณ์ $76 + 25 = ?$

ตอบ 101

5. ทองมีดินสอ 78 แท่ง ตาเอามาให้ 23 แท่ง ทองจะมีดินสอทั้งหมดเท่าใด

ประโยคสัญลักษณ์ $78 + 23 = ?$

ตอบ 101



ครูย์ www.ontous.info

ชื่อ-สกุล			
ชั้นเรียน		เลขที่	
คะแนนที่ได้		วันที่	

แบบฝึกวิชาคณิตศาสตร์ เรื่อง โจทย์ปัญหาการบวก ตัวเลขสองจำนวน (เลขหลักสิบ)

คำชี้แจง : ให้นักเรียนหาคำตอบจากโจทย์คำถามให้ถูกต้อง

6. บัปมีม้า 68 ตัว ย่าซื้อให้ 52 ตัว บัปจะมีม้าทั้งหมดเท่าใด

ประโยคสัญลักษณ์ $68 + 52 = ?$

ตอบ 120

7. จุหลินมีตุ้เย็น 70 เครื่อง น้องนำมาให้ 57 เครื่อง จุหลินจะมีตุ้เย็นทั้งหมดเท่าใด

ประโยคสัญลักษณ์ $70 + 57 = ?$

ตอบ 127

8. แอร์มีสีไม้ 10 แท่ง ย่าซื้อให้ 51 แท่ง แอร์จะมีสีไม้ทั้งหมดเท่าใด

ประโยคสัญลักษณ์ $10 + 51 = ?$

ตอบ 61

9. ทวนมีผ้าเช็ดโต๊ะ 32 ผืน นำให้มาอีก 55 ผืน ทวนจะมีผ้าเช็ดโต๊ะทั้งหมดเท่าใด

ประโยคสัญลักษณ์ $32 + 55 = ?$

ตอบ 87

10. ทรัสต์มีตู้ไปรษณีย์ 85 ตู้ สุชาติซื้อให้เพิ่ม 27 ตู้ ทรัสต์จะมีตู้ไปรษณีย์ทั้งหมดเท่าใด

ประโยคสัญลักษณ์ $85 + 27 = ?$

ตอบ 112



ครูย์ www.ontous.info

ชื่อ-สกุล			
ชั้นเรียน		เลขที่	
คะแนนที่ได้		วันที่	

แบบฝึกวิชาคณิตศาสตร์ เรื่อง โจทย์ปัญหาการบวก ตัวเลขสองจำนวน (เลขหลักสิบ)

คำชี้แจง : ให้นักเรียนหาคำตอบจากโจทย์คำถามให้ถูกต้อง

11. บุธมีกล่องใส 40 ชิ้น สุชาติให้เพิ่ม 18 ชิ้น บุธจะมีกล่องใสทั้งหมดเท่าใด

ประโยคสัญลักษณ์ $40 + 18 = ?$

ตอบ 58

12. เอียดมีปากกาไฮไลท์ 33 แท่ง ป้าให้มาอีก 68 แท่ง เอียดจะมีปากกาไฮไลท์ทั้งหมดเท่าใด

ประโยคสัญลักษณ์ $33 + 68 = ?$

ตอบ 101

13. เอี่ยวมีกระดานดำ 44 แผ่น แม่ให้เพิ่ม 39 แผ่น เอี่ยวจะมีกระดานดำทั้งหมดเท่าใด

ประโยคสัญลักษณ์ $44 + 39 = ?$

ตอบ 83

14. กาเล็กซีมีว้าว 40 ตัว ลุงซื้อให้ 32 ตัว กาเล็กซีจะมีว้าวทั้งหมดเท่าใด

ประโยคสัญลักษณ์ $40 + 32 = ?$

ตอบ 72

15. แจ็กสันมีวงเวียน 12 อัน น้านำมาให้ 86 อัน แจ็กสันจะมีวงเวียนทั้งหมดเท่าใด

ประโยคสัญลักษณ์ $12 + 86 = ?$

ตอบ 98



ครูโย www.ontous.info

ชื่อ-สกุล			
ชั้นเรียน		เลขที่	
คะแนนที่ได้		วันที่	

แบบฝึกวิชาคณิตศาสตร์ เรื่อง โจทย์ปัญหาการบวก ตัวเลขสองจำนวน (เลขหลักสิบ)

คำชี้แจง : ให้นักเรียนหาคำตอบจากโจทย์คำถามให้ถูกต้อง

16. ต้าเพ็งมีป้ายห้อยบัตร 86 อัน ลุงเอาให้ 92 อัน ต้าเพ็งจะมีป้ายห้อยบัตรทั้งหมดเท่าใด
ประโยคสัญลักษณ์ $86 + 92 = ?$

ตอบ 178

17. กาสีโนมีน้ำยาถูพื้น 98 ขวด น้องนำมาให้ 48 ขวด กาสีโนจะมีน้ำยาถูพื้นทั้งหมดเท่าใด
ประโยคสัญลักษณ์ $98 + 48 = ?$

ตอบ 146

18. อ้ายมีช่าง 65 ตัว ย่าเอาให้ 56 ตัว อ้ายจะมีช่างทั้งหมดเท่าใด
ประโยคสัญลักษณ์ $65 + 56 = ?$

ตอบ 121

19. จินถงมีผ้าฆ่า่าน 10 ชิ้น ปู่ซื้อให้ 57 ชิ้น จินถงจะมีผ้าฆ่า่านทั้งหมดเท่าใด
ประโยคสัญลักษณ์ $10 + 57 = ?$

ตอบ 67

20. ตามฝันมีหนังสือดี 16 เล่ม เพื่อนซื้อให้เพิ่ม 15 เล่ม ตามฝันจะมีหนังสือดีทั้งหมดเท่าใด
ประโยคสัญลักษณ์ $16 + 15 = ?$

ตอบ 31



ครูย์ www.ontous.info

ชื่อ-สกุล			
ชั้นเรียน		เลขที่	
คะแนนที่ได้		วันที่	

แบบฝึกวิชาคณิตศาสตร์ เรื่อง โจทย์ปัญหาการบวก ตัวเลขสองจำนวน (เลขหลักสิบ)

คำชี้แจง : ให้นักเรียนหาคำตอบจากโจทย์คำถามให้ถูกต้อง

21. อ๊ะมีไฟฉาย 59 กระบอก ป้าเอาให้ 43 กระบอก อ๊ะจะมีไฟฉายทั้งหมดเท่าใด

ประโยคสัญลักษณ์ $59 + 43 = ?$

ตอบ 102

22. ไทม์มีถาดโต๊ะ 72 อัน ปู่ให้เพิ่ม 15 อัน ไทม์จะมีถาดโต๊ะทั้งหมดเท่าใด

ประโยคสัญลักษณ์ $72 + 15 = ?$

ตอบ 87

23. กอไผ่มีภาพนก 75 แผ่น ปู่เอาให้ 12 แผ่น กอไผ่จะมีภาพนกทั้งหมดเท่าใด

ประโยคสัญลักษณ์ $75 + 12 = ?$

ตอบ 87

24. ฮาร์ทเนียมมีสติ๊กเกอร์ 83 ชิ้น อาแบ่งให้ 83 ชิ้น ฮาร์ทเนียมจะมีสติ๊กเกอร์ทั้งหมดเท่าใด


ประโยคสัญลักษณ์ $83 + 83 = ?$

ตอบ 166

25. บุตรมีโต๊ะประชุม 71 ตัว ปู่ซื้อให้ 29 ตัว บุตรจะมีโต๊ะประชุมทั้งหมดเท่าใด

ประโยคสัญลักษณ์ $71 + 29 = ?$

ตอบ 100



ครูย์ www.ontous.info

ชื่อ-สกุล			
ชั้นเรียน		เลขที่	
คะแนนที่ได้		วันที่	

แบบฝึกวิชาคณิตศาสตร์ เรื่อง โจทย์ปัญหาการบวก ตัวเลขสองจำนวน (เลขหลักสิบ)

คำชี้แจง : ให้นักเรียนหาคำตอบจากโจทย์คำถามให้ถูกต้อง

26. ต้าอันมีสมุดบันทึก 21 เล่ม เพื่อนนำมาให้ 57 เล่ม ต้าอันจะมีสมุดบันทึกทั้งหมดเท่าใด
ประโยคสัญลักษณ์ $21 + 57 = ?$

ตอบ 78

27. จินซานมีเครื่องคิดเลข 47 เครื่อง ย่าเอาให้ 20 เครื่อง จินซานจะมีเครื่องคิดเลขทั้งหมดเท่าใด
ประโยคสัญลักษณ์ $47 + 20 = ?$

ตอบ 67

28. อีสมีกระดานดำ 53 แผ่น พ่อให้มาอีก 33 แผ่น อีสจะมีกระดานดำทั้งหมดเท่าใด
ประโยคสัญลักษณ์ $53 + 33 = ?$

ตอบ 86

29. ตองยีมีแสตมป์ 16 ดวง อาเอามาให้ 63 ดวง ตองยีจะมีแสตมป์ทั้งหมดเท่าใด
ประโยคสัญลักษณ์ $16 + 63 = ?$

ตอบ 79

30. ภูมิดินสอ 54 แท่ง เพื่อนเอาให้ 72 แท่ง ภูมิดินสอทั้งหมดเท่าใด
ประโยคสัญลักษณ์ $54 + 72 = ?$

ตอบ 126



ครูโยย www.ontous.info

ชื่อ-สกุล			
ชั้นเรียน		เลขที่	
คะแนนที่ได้		วันที่	

แบบฝึกวิชาคณิตศาสตร์ เรื่อง โจทย์ปัญหาการบวก ตัวเลขสองจำนวน (เลขหลักสิบ)

คำชี้แจง : ให้นักเรียนหาคำตอบจากโจทย์คำถามให้ถูกต้อง

31. เบย์มีที่สำรองไฟ 76 เครื่อง สุชาติซื้อให้ 39 เครื่อง เบย์จะมีที่สำรองไฟทั้งหมดเท่าใด
ประโยคสัญลักษณ์ $76 + 39 = ?$

ตอบ 115

32. แท่งมีเครื่องคิดเลข 76 เครื่อง ลุงเอามาให้ 24 เครื่อง แท่งจะมีเครื่องคิดเลขทั้งหมดเท่าใด
ประโยคสัญลักษณ์ $76 + 24 = ?$

ตอบ 100

33. บลอนด์มีกระดาน 60 แผ่น ตาซื้อให้ 29 แผ่น บลอนด์จะมีกระดานทั้งหมดเท่าใด
ประโยคสัญลักษณ์ $60 + 29 = ?$

ตอบ 89

34. ทามมีเทปกาว 89 ม้วน ย่านำมาให้ 97 ม้วน ทามจะมีเทปกาวทั้งหมดเท่าใด
ประโยคสัญลักษณ์ $89 + 97 = ?$

ตอบ 186

35. ไต้เท้ามีหมุด 47 ตัว ย่าให้เพิ่ม 84 ตัว ไต้เท้าจะมีหมุดทั้งหมดเท่าใด
ประโยคสัญลักษณ์ $47 + 84 = ?$

ตอบ 131



ครูย์ www.ontous.info

ชื่อ-สกุล			
ชั้นเรียน		เลขที่	
คะแนนที่ได้		วันที่	

แบบฝึกวิชาคณิตศาสตร์ เรื่อง โจทย์ปัญหาการบวก ตัวเลขสองจำนวน (เลขหลักสิบ)

คำชี้แจง : ให้นักเรียนหาคำตอบจากโจทย์คำถามให้ถูกต้อง

36. บัปมีตู้ไปรษณีย์ 21 ตู้ พ่อแบ่งให้ 58 ตู้ บัปจะมีตู้ไปรษณีย์ทั้งหมดเท่าใด

ประโยคสัญลักษณ์ $21 + 58 = ?$

ตอบ 79

37. บั๊กมีแฟลชไดรฟ์ 46 อัน ปู่ซื้อให้ 45 อัน บั๊กจะมีแฟลชไดรฟ์ทั้งหมดเท่าใด

ประโยคสัญลักษณ์ $46 + 45 = ?$

ตอบ 91

38. แก้มบุ่มมีกาแฟ 89 ซอง ยายเอามาให้ 24 ซอง แก้มบุ่มจะมีกาแฟทั้งหมดเท่าใด

ประโยคสัญลักษณ์ $89 + 24 = ?$

ตอบ 113

39. ภาวมีกรรไกร 50 อัน ย่าแบ่งให้ 37 อัน ภาวจะมีกรรไกรทั้งหมดเท่าใด

ประโยคสัญลักษณ์ $50 + 37 = ?$

ตอบ 87

40. อันมีตู้เย็น 65 เครื่อง เพื่อนเอามาให้ 27 เครื่อง อันจะมีตู้เย็นทั้งหมดเท่าใด

ประโยคสัญลักษณ์ $65 + 27 = ?$

ตอบ 92



ครูโยย www.ontous.info

ชื่อ-สกุล			
ชั้นเรียน		เลขที่	
คะแนนที่ได้		วันที่	

แบบฝึกวิชาคณิตศาสตร์ เรื่อง โจทย์ปัญหาการบวก ตัวเลขสองจำนวน (เลขหลักสิบ)

คำชี้แจง : ให้นักเรียนหาคำตอบจากโจทย์คำถามให้ถูกต้อง

41. บอลมีภาพนก 35 แผ่น ตาเอาให้ 77 แผ่น บอลจะมีภาพนกทั้งหมดเท่าใด

ประโยคสัญลักษณ์ $35 + 77 = ?$

ตอบ 112

42. บลูมีนาฬิกา 24 อัน ตาซื้อให้เพิ่ม 64 อัน บลูจะมีนาฬิกาทั้งหมดเท่าใด

ประโยคสัญลักษณ์ $24 + 64 = ?$

ตอบ 88

43. อี๊กมีนาฬิกา 44 อัน ย่าซื้อให้เพิ่ม 44 อัน อี๊กจะมีนาฬิกาทั้งหมดเท่าใด

ประโยคสัญลักษณ์ $44 + 44 = ?$

ตอบ 88

44. ทอยมีไก่ 64 ตัว อาซื้อให้เพิ่ม 86 ตัว ทอยจะมีไก่ทั้งหมดเท่าใด

ประโยคสัญลักษณ์ $64 + 86 = ?$

ตอบ 150

45. ภาพมีหมึกพิมพ์ 15 ตลับ พ่อเอาให้ 69 ตลับ ภาพจะมีหมึกพิมพ์ทั้งหมดเท่าใด

ประโยคสัญลักษณ์ $15 + 69 = ?$

ตอบ 84



ครูย์ www.ontous.info

ชื่อ-สกุล			
ชั้นเรียน		เลขที่	
คะแนนที่ได้		วันที่	

แบบฝึกวิชาคณิตศาสตร์ เรื่อง โจทย์ปัญหาการบวก ตัวเลขสองจำนวน (เลขหลักสิบ)

คำชี้แจง : ให้นักเรียนหาคำตอบจากโจทย์คำถามให้ถูกต้อง

46. ฮังการีมีป้ายชื่อ 55 อัน แม่ให้เพิ่ม 45 อัน ฮังการีจะมีป้ายชื่อทั้งหมดเท่าใด

ประโยคสัญลักษณ์ $55 + 45 = ?$

ตอบ 100

47. กีบซีมีปลีกพวง 50 อัน น้องให้มาอีก 88 อัน กีบซีจะมีปลีกพวงทั้งหมดเท่าใด

ประโยคสัญลักษณ์ $50 + 88 = ?$

ตอบ 138

48. ตูตงมีถังขยะ 67 อัน น้ำซื้อให้เพิ่ม 87 อัน ตูตงจะมีถังขยะทั้งหมดเท่าใด

ประโยคสัญลักษณ์ $67 + 87 = ?$

ตอบ 154

49. บัพมีแสตมป์ 88 ดวง เพื่อนเอาให้ 63 ดวง บัพจะมีแสตมป์ทั้งหมดเท่าใด

ประโยคสัญลักษณ์ $88 + 63 = ?$

ตอบ 151

50. บ้านมีที่สำรองไฟ 94 เครื่อง พ่อให้มาอีก 15 เครื่อง บ้านจะมีที่สำรองไฟทั้งหมดเท่าใด

ประโยคสัญลักษณ์ $94 + 15 = ?$

ตอบ 109



ครูย์ www.ontous.info

ชื่อ-สกุล			
ชั้นเรียน		เลขที่	
คะแนนที่ได้		วันที่	

แบบฝึกวิชาคณิตศาสตร์ เรื่อง โจทย์ปัญหาการบวก ตัวเลขสองจำนวน (เลขหลักสิบ)

คำชี้แจง : ให้นักเรียนหาคำตอบจากโจทย์คำถามให้ถูกต้อง

51. บาสมีม้า 79 ตัว อาซื้อให้ 99 ตัว บาสจะมีม้าทั้งหมดเท่าใด

ประโยคสัญลักษณ์ $79 + 99 = ?$

ตอบ 178

52. บิ๊กมีไก่ 77 ตัว ป้าเอาให้ 81 ตัว บิ๊กจะมีไก่ทั้งหมดเท่าใด

ประโยคสัญลักษณ์ $77 + 81 = ?$

ตอบ 158

53. กัมมีมีสุนัข 28 ตัว ตาแบ่งให้ 39 ตัว กัมมีจะมีสุนัขทั้งหมดเท่าใด

ประโยคสัญลักษณ์ $28 + 39 = ?$

ตอบ 67

54. บุงมีกล่องใส 99 กล่อง ยายให้เพิ่ม 39 กล่อง บุงจะมีกล่องใสทั้งหมดเท่าใด

ประโยคสัญลักษณ์ $99 + 39 = ?$

ตอบ 138

55. จินฉะมีกาแพ 85 ซอง น้ำซื้อให้ 55 ซอง จินฉะจะมีกาแพทั้งหมดเท่าใด

ประโยคสัญลักษณ์ $85 + 55 = ?$

ตอบ 140



ครูย์ www.ontous.info

ชื่อ-สกุล			
ชั้นเรียน		เลขที่	
คะแนนที่ได้		วันที่	

แบบฝึกวิชาคณิตศาสตร์ เรื่อง โจทย์ปัญหาการบวก ตัวเลขสองจำนวน (เลขหลักสิบ)

คำชี้แจง : ให้นักเรียนหาคำตอบจากโจทย์คำถามให้ถูกต้อง

56. ทิพมีถุงขยะ 35 ถุง อาให้เพิ่ม 97 ถุง ทิพจะมีถุงขยะทั้งหมดเท่าใด

ประโยคสัญลักษณ์ $35 + 97 = ?$

ตอบ 132

57. กอบัวมีโคมไฟ 66 อัน นำนามาให้ 45 อัน กอบัวจะมีโคมไฟทั้งหมดเท่าใด

ประโยคสัญลักษณ์ $66 + 45 = ?$

ตอบ 111

58. บุงมีสุนัข 85 ตัว อาเอาให้ 30 ตัว บุงจะมีสุนัขทั้งหมดเท่าใด

ประโยคสัญลักษณ์ $85 + 30 = ?$

ตอบ 115

59. ท้อปมีชอล์ก 38 อัน พ่อเอาให้ 55 อัน ท้อปจะมีชอล์กทั้งหมดเท่าใด

ประโยคสัญลักษณ์ $38 + 55 = ?$

ตอบ 93

60. จิ้นเปี่ยมีกาแฟ 80 ซอง เพื่อนซื้อให้เพิ่ม 42 ซอง จิ้นเปี่ยมีกาแฟทั้งหมดเท่าใด

ประโยคสัญลักษณ์ $80 + 42 = ?$

ตอบ 122



ครูโยย www.ontous.info

ชื่อ-สกุล			
ชั้นเรียน		เลขที่	
คะแนนที่ได้		วันที่	

แบบฝึกวิชาคณิตศาสตร์ เรื่อง โจทย์ปัญหาการบวก ตัวเลขสองจำนวน (เลขหลักสิบ)

คำชี้แจง : ให้นักเรียนหาคำตอบจากโจทย์คำถามให้ถูกต้อง

61. ต่วนอ้อมีโปรเจคเตอร์ 10 เครื่อง ตาเอามาให้ 56 เครื่อง ต่วนอ้อมีโปรเจคเตอร์ทั้งหมดเท่าใด
ประโยคสัญลักษณ์ $10 + 56 = ?$

ตอบ 66

62. ฮยอนอามีหมุด 65 ตัว คุณครูให้เพิ่ม 52 ตัว ฮยอนอามีหมุดทั้งหมดเท่าใด
ประโยคสัญลักษณ์ $65 + 52 = ?$

ตอบ 117

63. เบย์มีถังดับเพลิง 74 อัน น้องเอามาให้ 95 อัน เบย์จะมีถังดับเพลิงทั้งหมดเท่าใด
ประโยคสัญลักษณ์ $74 + 95 = ?$

ตอบ 169

64. บินมีกรรไกร 51 อัน ลุงให้มาอีก 69 อัน บินจะมีกรรไกรทั้งหมดเท่าใด
ประโยคสัญลักษณ์ $51 + 69 = ?$

ตอบ 120

65. กะละแมมีสติ๊กเกอร์ 45 ชิ้น ป้าให้เพิ่ม 94 ชิ้น กะละแมจะมีสติ๊กเกอร์ทั้งหมดเท่าใด
ประโยคสัญลักษณ์ $45 + 94 = ?$

ตอบ 139



ครูย์ www.ontous.info

ชื่อ-สกุล			
ชั้นเรียน		เลขที่	
คะแนนที่ได้		วันที่	

แบบฝึกวิชาคณิตศาสตร์ เรื่อง โจทย์ปัญหาการบวก ตัวเลขสองจำนวน (เลขหลักสิบ)

คำชี้แจง : ให้นักเรียนหาคำตอบจากโจทย์คำถามให้ถูกต้อง

66. เอมมีแสดมภ์ 68 ดวง อาแบ่งให้ 16 ดวง เอมจะมีแสดมภ์ทั้งหมดเท่าใด

ประโยคสัญลักษณ์ $68 + 16 = ?$

ตอบ 84

67. ต้าเหนึงมีกรรไกร 47 อัน ต้าให้เพิ่ม 50 อัน ต้าเหนึงจะมีกรรไกรทั้งหมดเท่าใด

ประโยคสัญลักษณ์ $47 + 50 = ?$

ตอบ 97

68. อีสมีถาดโต๊ะ 12 อัน ย่าแบ่งให้ 69 อัน อีสจะมีถาดโต๊ะทั้งหมดเท่าใด

ประโยคสัญลักษณ์ $12 + 69 = ?$

ตอบ 81

69. บรามีสุนัข 40 ตัว เพื่อนเอาให้ 19 ตัว บรามีสุนัขทั้งหมดเท่าใด

ประโยคสัญลักษณ์ $40 + 19 = ?$

ตอบ 59

70. บ้อมบริงค์มียางลบ 97 ก้อน ต้าให้มาอีก 44 ก้อน บ้อมบริงค์จะมียางลบทั้งหมดเท่าใด

ประโยคสัญลักษณ์ $97 + 44 = ?$

ตอบ 141



ครูย์ www.ontous.info

ชื่อ-สกุล			
ชั้นเรียน		เลขที่	
คะแนนที่ได้		วันที่	

แบบฝึกวิชาคณิตศาสตร์ เรื่อง โจทย์ปัญหาการบวก ตัวเลขสองจำนวน (เลขหลักสิบ)

คำชี้แจง : ให้นักเรียนหาคำตอบจากโจทย์คำถามให้ถูกต้อง

71. การชิมมีน้ำดื่ม 86 ขวด นำเอามาให้ 30 ขวด การชิมจะมีน้ำดื่มทั้งหมดเท่าใด

ประโยคสัญลักษณ์ $86 + 30 = ?$

ตอบ 116

72. ท้อปมีแอสตัมป์ 74 ดวง แม่แบ่งให้ 89 ดวง ท้อปจะมีแอสตัมป์ทั้งหมดเท่าใด

ประโยคสัญลักษณ์ $74 + 89 = ?$

ตอบ 163

73. แอ็คมีแฟลชไดรฟ์ 80 อัน อาซื่อให้เพิ่ม 38 อัน แอ็คจะมีแฟลชไดรฟ์ทั้งหมดเท่าใด

ประโยคสัญลักษณ์ $80 + 38 = ?$

ตอบ 118

74. ยี่มีสติ๊กเกอร์ 40 ชิ้น บู่ให้มาอีก 55 ชิ้น ยี่จะมีสติ๊กเกอร์ทั้งหมดเท่าใด

ประโยคสัญลักษณ์ $40 + 55 = ?$

ตอบ 95

75. บุงมีสติ๊กเกอร์ 75 ชิ้น สุชาติเอาให้ 26 ชิ้น บุงจะมีสติ๊กเกอร์ทั้งหมดเท่าใด

ประโยคสัญลักษณ์ $75 + 26 = ?$

ตอบ 101



ครูโยย www.ontous.info

ชื่อ-สกุล			
ชั้นเรียน		เลขที่	
คะแนนที่ได้		วันที่	

แบบฝึกวิชาคณิตศาสตร์ เรื่อง โจทย์ปัญหาการบวก ตัวเลขสองจำนวน (เลขหลักสิบ)

คำชี้แจง : ให้นักเรียนหาคำตอบจากโจทย์คำถามให้ถูกต้อง

76. เอี้ยงมีที่สำรองไฟ 75 เครื่อง นำให้มาอีก 80 เครื่อง เอี้ยงจะมีที่สำรองไฟทั้งหมดเท่าใด
ประโยคสัญลักษณ์ $75 + 80 = ?$

ตอบ 155

77. ที่มีผ้าเช็ดโต๊ะ 72 ผืน ปุ๋นนำมาให้ 45 ผืน ที่จะมีผ้าเช็ดโต๊ะทั้งหมดเท่าใด
ประโยคสัญลักษณ์ $72 + 45 = ?$

ตอบ 117

78. แอมมีปากกาไฮไลต์ 40 แท่ง น้องเอาให้ 87 แท่ง แอมจะมีปากกาไฮไลต์ทั้งหมดเท่าใด
ประโยคสัญลักษณ์ $40 + 87 = ?$

ตอบ 127

79. บอร์ดมีแก้ว 27 ใบ คุณครูเอาให้ 61 ใบ บอร์ดจะมีแก้วทั้งหมดเท่าใด
ประโยคสัญลักษณ์ $27 + 61 = ?$

ตอบ 88

80. ยุกต์มีวัว 91 ตัว ปุ๋นซื้อให้เพิ่ม 90 ตัว ยุกต์จะมีวัวทั้งหมดเท่าใด
ประโยคสัญลักษณ์ $91 + 90 = ?$

ตอบ 181



ครูย์ www.ontous.info

ชื่อ-สกุล			
ชั้นเรียน		เลขที่	
คะแนนที่ได้		วันที่	

แบบฝึกวิชาคณิตศาสตร์ เรื่อง โจทย์ปัญหาการบวก ตัวเลขสองจำนวน (เลขหลักสิบ)

คำชี้แจง : ให้นักเรียนหาคำตอบจากโจทย์คำถามให้ถูกต้อง

81. บินมีเครื่องสำเนา 13 เครื่อง ป้าเอาให้ 38 เครื่อง บินจะมีเครื่องสำเนาทั้งหมดเท่าใด
ประโยคสัญลักษณ์ $13 + 38 = ?$

ตอบ 51

82. ภูมิมีแฟลชไดรฟ์ 86 อัน ตาให้เพิ่ม 94 อัน ภูมิจจะมีแฟลชไดรฟ์ทั้งหมดเท่าใด
ประโยคสัญลักษณ์ $86 + 94 = ?$

ตอบ 180

83. อีมีฮาร์ดดิสก์ 20 อัน แม่แบ่งให้ 20 อัน อีจะมีฮาร์ดดิสก์ทั้งหมดเท่าใด
ประโยคสัญลักษณ์ $20 + 20 = ?$

ตอบ 40

84. บีมีดินสอ 11 แท่ง ป้าซื้อให้ 16 แท่ง บีจะมีดินสอทั้งหมดเท่าใด
ประโยคสัญลักษณ์ $11 + 16 = ?$

ตอบ 27

85. โบว์มีไมโครเวฟ 14 เครื่อง ตาเอามาให้ 31 เครื่อง โบว์จะมีไมโครเวฟทั้งหมดเท่าใด
ประโยคสัญลักษณ์ $14 + 31 = ?$

ตอบ 45



ครูย์ www.ontous.info

ชื่อ-สกุล			
ชั้นเรียน		เลขที่	
คะแนนที่ได้		วันที่	

แบบฝึกวิชาคณิตศาสตร์ เรื่อง โจทย์ปัญหาการบวก ตัวเลขสองจำนวน (เลขหลักสิบ)

คำชี้แจง : ให้นักเรียนหาคำตอบจากโจทย์คำถามให้ถูกต้อง

86. ตัวแรมมีหนุตะเกา 35 ตัว ป้าให้เพิ่ม 14 ตัว ตัวแรมจะมีหนุตะเกาทั้งหมดเท่าใด

ประโยคสัญลักษณ์ $35 + 14 = ?$

ตอบ 49

87. เจสันมีแมว 53 ตัว ลุงเอามาให้ 57 ตัว เจสันจะมีแมวทั้งหมดเท่าใด

ประโยคสัญลักษณ์ $53 + 57 = ?$

ตอบ 110

88. ภูมีถาดโต๊ะ 58 อัน น้ำให้เพิ่ม 76 อัน ภูจะมีถาดโต๊ะทั้งหมดเท่าใด

ประโยคสัญลักษณ์ $58 + 76 = ?$

ตอบ 134

89. บลูมีกระดาษสี 27 แผ่น ป้าซื้อให้ 28 แผ่น บลูจะมีกระดาษสีทั้งหมดเท่าใด

ประโยคสัญลักษณ์ $27 + 28 = ?$

ตอบ 55

90. ต้าเฟิงมีข้าง 84 ตัว ตาแบ่งให้ 51 ตัว ต้าเฟิงจะมีข้างทั้งหมดเท่าใด

ประโยคสัญลักษณ์ $84 + 51 = ?$

ตอบ 135



ครูย์ www.ontous.info

ชื่อ-สกุล			
ชั้นเรียน		เลขที่	
คะแนนที่ได้		วันที่	

แบบฝึกวิชาคณิตศาสตร์ เรื่อง โจทย์ปัญหาการบวก ตัวเลขสองจำนวน (เลขหลักสิบ)

คำชี้แจง : ให้นักเรียนหาคำตอบจากโจทย์คำถามให้ถูกต้อง

91. โจเซฟมีม้า 72 ตัว บ้าให้มาอีก 79 ตัว โจเซฟจะมีม้าทั้งหมดเท่าใด

ประโยคสัญลักษณ์ $72 + 79 = ?$

ตอบ 151

92. เบธมีกระดาษชำระ 53 ชิ้น ยายเอามาให้ 34 ชิ้น เบธจะมีกระดาษชำระทั้งหมดเท่าใด

ประโยคสัญลักษณ์ $53 + 34 = ?$

ตอบ 87

93. บัทม์มีสแกนเนอร์ 74 เครื่อง ตาซื้อให้เพิ่ม 11 เครื่อง บัทม์จะมีสแกนเนอร์ทั้งหมดเท่าใด

ประโยคสัญลักษณ์ $74 + 11 = ?$

ตอบ 85

94. เทรียร์มีต้นไม้ 70 ต้น น้องแบ่งให้ 32 ต้น เทรียร์จะมีต้นไม้ทั้งหมดเท่าใด

ประโยคสัญลักษณ์ $70 + 32 = ?$

ตอบ 102

95. ฮยอนอามีภาพนก 87 แผ่น ยายซื้อให้ 35 แผ่น ฮยอนอามีภาพนกทั้งหมดเท่าใด

ประโยคสัญลักษณ์ $87 + 35 = ?$

ตอบ 122



ครูย์ www.ontous.info

ชื่อ-สกุล			
ชั้นเรียน		เลขที่	
คะแนนที่ได้		วันที่	

แบบฝึกวิชาคณิตศาสตร์ เรื่อง โจทย์ปัญหาการบวก ตัวเลขสองจำนวน (เลขหลักสิบ)

คำชี้แจง : ให้นักเรียนหาคำตอบจากโจทย์คำถามให้ถูกต้อง

96. บวยมี่เครื่องพิมพ์ 25 เครื่อง อาให้เพิ่ม 46 เครื่อง บวยมี่เครื่องพิมพ์ทั้งหมดเท่าใด

ประโยคสัญลักษณ์ $25 + 46 = ?$

ตอบ 71

97. จินขางมีปลั๊กพ่วง 53 อัน ยายซื้อให้ 28 อัน จินขางจะมีปลั๊กพ่วงทั้งหมดเท่าใด

ประโยคสัญลักษณ์ $53 + 28 = ?$

ตอบ 81

98. ทิคมีตู้ไปรษณีย์ 62 ตู้ แม่เอามาให้ 10 ตู้ ทิคจะมีตู้ไปรษณีย์ทั้งหมดเท่าใด

ประโยคสัญลักษณ์ $62 + 10 = ?$

ตอบ 72

99. อี้ดมีถ้วย 62 อัน อาเอาให้ 41 อัน อี้ดจะมีถ้วยทั้งหมดเท่าใด

ประโยคสัญลักษณ์ $62 + 41 = ?$

ตอบ 103

100. ฮยอนอามีเครื่องพิมพ์ 64 เครื่อง อาซื้อให้เพิ่ม 40 เครื่อง ฮยอนอามีเครื่องพิมพ์ทั้งหมดเท่าใด

ประโยคสัญลักษณ์ $64 + 40 = ?$

ตอบ 104