

ครูย์ www.ontous.info

ชื่อ-สกุล			
ชั้นเรียน		เลขที่	
คะแนนที่ได้		วันที่	

คำชี้แจง : จงหาผลลัพธ์ที่กำหนดให้ในแต่ละข้อ

ข้อที่ 1) จงหาคำตอบ $7 - 7 =$

ข้อที่ 2) จงหาคำตอบ $0 + 9 =$

ข้อที่ 3) จงหาคำตอบ $14 - 14 =$

ข้อที่ 4) จงหาคำตอบ $8 + 16 =$

ข้อที่ 5) จงหาคำตอบ $1 - 1 =$

ข้อที่ 6) จงหาคำตอบ $7 + 16 =$

ข้อที่ 7) จงหาคำตอบ $2 + 13 =$

ข้อที่ 8) จงหาคำตอบ $10 + 2 =$

ข้อที่ 9) จงหาคำตอบ $14 - 13 =$

ข้อที่ 10) จงหาคำตอบ $0 + 6 =$


ข้อที่ 11) จงหาคำตอบ $12 - 4 =$

ข้อที่ 12) จงหาคำตอบ $4 - 4 =$

ข้อที่ 13) จงหาคำตอบ $6 + 1 =$

ข้อที่ 14) จงหาคำตอบ $0 + 2 =$

ข้อที่ 15) จงหาคำตอบ $13 + 4 =$



ครูย์ www.ontous.info

ชื่อ-สกุล			
ชั้นเรียน		เลขที่	
คะแนนที่ได้		วันที่	

คำชี้แจง : จงหาผลลัพธ์ที่กำหนดให้ในแต่ละข้อ

ข้อที่ 16) จงหาคำตอบ $18 + 13 =$

ข้อที่ 17) จงหาคำตอบ $20 - 4 =$

ข้อที่ 18) จงหาคำตอบ $16 - 5 =$

ข้อที่ 19) จงหาคำตอบ $2 + 16 =$

ข้อที่ 20) จงหาคำตอบ $15 + 4 =$

ข้อที่ 21) จงหาคำตอบ $2 + 14 =$

ข้อที่ 22) จงหาคำตอบ $0 + 9 =$

ข้อที่ 23) จงหาคำตอบ $2 - 2 =$

ข้อที่ 24) จงหาคำตอบ $1 + 12 =$

ข้อที่ 25) จงหาคำตอบ $20 + 18 =$

ข้อที่ 26) จงหาคำตอบ $1 + 14 =$

ข้อที่ 27) จงหาคำตอบ $7 - 7 =$

ข้อที่ 28) จงหาคำตอบ $1 - 1 =$

ข้อที่ 29) จงหาคำตอบ $0 + 14 =$

ข้อที่ 30) จงหาคำตอบ $3 - 3 =$



ครูย์ www.ontous.info

ชื่อ-สกุล			
ชั้นเรียน		เลขที่	
คะแนนที่ได้		วันที่	

คำชี้แจง : จงหาผลลัพธ์ที่กำหนดให้ในแต่ละข้อ

ข้อที่ 31) จงหาคำตอบ $3 + 1 =$

ข้อที่ 32) จงหาคำตอบ $4 - 0 =$

ข้อที่ 33) จงหาคำตอบ $13 - 1 =$

ข้อที่ 34) จงหาคำตอบ $10 - 10 =$

ข้อที่ 35) จงหาคำตอบ $6 - 6 =$

ข้อที่ 36) จงหาคำตอบ $16 - 7 =$

ข้อที่ 37) จงหาคำตอบ $9 + 6 =$

ข้อที่ 38) จงหาคำตอบ $2 + 20 =$

ข้อที่ 39) จงหาคำตอบ $3 + 19 =$

ข้อที่ 40) จงหาคำตอบ $20 - 13 =$

ข้อที่ 41) จงหาคำตอบ $12 + 13 =$

ข้อที่ 42) จงหาคำตอบ $15 + 13 =$

ข้อที่ 43) จงหาคำตอบ $7 - 7 =$

ข้อที่ 44) จงหาคำตอบ $10 - 10 =$

ข้อที่ 45) จงหาคำตอบ $9 + 13 =$



ครูย์ www.ontous.info

ชื่อ-สกุล			
ชั้นเรียน		เลขที่	
คะแนนที่ได้		วันที่	

คำชี้แจง : จงหาผลลัพธ์ที่กำหนดให้ในแต่ละข้อ

ข้อที่ 46) จงหาคำตอบ $10 - 10 =$

ข้อที่ 47) จงหาคำตอบ $7 + 14 =$

ข้อที่ 48) จงหาคำตอบ $20 + 14 =$

ข้อที่ 49) จงหาคำตอบ $5 + 11 =$

ข้อที่ 50) จงหาคำตอบ $7 + 0 =$

ข้อที่ 51) จงหาคำตอบ $8 + 11 =$

ข้อที่ 52) จงหาคำตอบ $19 - 17 =$

ข้อที่ 53) จงหาคำตอบ $17 - 8 =$

ข้อที่ 54) จงหาคำตอบ $13 + 14 =$

ข้อที่ 55) จงหาคำตอบ $3 - 3 =$


ข้อที่ 56) จงหาคำตอบ $10 - 6 =$

ข้อที่ 57) จงหาคำตอบ $18 + 1 =$

ข้อที่ 58) จงหาคำตอบ $10 + 17 =$

ข้อที่ 59) จงหาคำตอบ $10 + 5 =$

ข้อที่ 60) จงหาคำตอบ $5 + 0 =$



ครูย์ www.ontous.info

ชื่อ-สกุล			
ชั้นเรียน		เลขที่	
คะแนนที่ได้		วันที่	

คำชี้แจง : จงหาผลลัพธ์ที่กำหนดให้ในแต่ละข้อ

ข้อที่ 61) จงหาคำตอบ $11 + 14 =$

ข้อที่ 62) จงหาคำตอบ $1 + 9 =$

ข้อที่ 63) จงหาคำตอบ $12 + 13 =$

ข้อที่ 64) จงหาคำตอบ $3 + 3 =$

ข้อที่ 65) จงหาคำตอบ $19 - 12 =$

ข้อที่ 66) จงหาคำตอบ $17 - 17 =$

ข้อที่ 67) จงหาคำตอบ $2 + 11 =$

ข้อที่ 68) จงหาคำตอบ $6 - 6 =$

ข้อที่ 69) จงหาคำตอบ $9 - 9 =$

ข้อที่ 70) จงหาคำตอบ $1 - 1 =$

ข้อที่ 71) จงหาคำตอบ $5 - 3 =$

ข้อที่ 72) จงหาคำตอบ $12 + 4 =$

ข้อที่ 73) จงหาคำตอบ $6 - 6 =$

ข้อที่ 74) จงหาคำตอบ $16 - 12 =$

ข้อที่ 75) จงหาคำตอบ $12 - 0 =$



ครูย์ www.ontous.info

ชื่อ-สกุล			
ชั้นเรียน		เลขที่	
คะแนนที่ได้		วันที่	

คำชี้แจง : จงหาผลลัพธ์ที่กำหนดให้ในแต่ละข้อ

ข้อที่ 76) จงหาคำตอบ $19 - 8 =$

ข้อที่ 77) จงหาคำตอบ $19 - 1 =$

ข้อที่ 78) จงหาคำตอบ $5 - 5 =$

ข้อที่ 79) จงหาคำตอบ $6 - 6 =$

ข้อที่ 80) จงหาคำตอบ $20 + 16 =$

ข้อที่ 81) จงหาคำตอบ $4 + 12 =$

ข้อที่ 82) จงหาคำตอบ $5 + 6 =$

ข้อที่ 83) จงหาคำตอบ $18 + 5 =$

ข้อที่ 84) จงหาคำตอบ $7 - 2 =$

ข้อที่ 85) จงหาคำตอบ $10 + 8 =$

ข้อที่ 86) จงหาคำตอบ $20 + 9 =$

ข้อที่ 87) จงหาคำตอบ $15 + 18 =$

ข้อที่ 88) จงหาคำตอบ $16 + 13 =$

ข้อที่ 89) จงหาคำตอบ $5 - 5 =$

ข้อที่ 90) จงหาคำตอบ $20 - 6 =$



ครูย์ www.ontous.info

ชื่อ-สกุล			
ชั้นเรียน		เลขที่	
คะแนนที่ได้		วันที่	

คำชี้แจง : จงหาผลลัพธ์ที่กำหนดให้ในแต่ละข้อ

ข้อที่ 91) จงหาคำตอบ $3 - 3 =$

ข้อที่ 92) จงหาคำตอบ $20 - 3 =$

ข้อที่ 93) จงหาคำตอบ $2 + 11 =$

ข้อที่ 94) จงหาคำตอบ $13 - 1 =$

ข้อที่ 95) จงหาคำตอบ $7 - 7 =$

ข้อที่ 96) จงหาคำตอบ $12 + 14 =$

ข้อที่ 97) จงหาคำตอบ $3 - 3 =$

ข้อที่ 98) จงหาคำตอบ $15 - 5 =$

ข้อที่ 99) จงหาคำตอบ $15 - 9 =$

ข้อที่ 100) จงหาคำตอบ $9 - 9 =$

ข้อที่ 101) จงหาคำตอบ $19 - 17 =$

ข้อที่ 102) จงหาคำตอบ $4 + 16 =$

ข้อที่ 103) จงหาคำตอบ $20 - 13 =$

ข้อที่ 104) จงหาคำตอบ $3 - 0 =$

ข้อที่ 105) จงหาคำตอบ $14 + 12 =$



ครูย์ www.ontous.info

ชื่อ-สกุล			
ชั้นเรียน		เลขที่	
คะแนนที่ได้		วันที่	

คำชี้แจง : จงหาผลลัพธ์ที่กำหนดให้ในแต่ละข้อ

ข้อที่ 106) จงหาคำตอบ $7 + 0 =$

ข้อที่ 107) จงหาคำตอบ $11 + 19 =$

ข้อที่ 108) จงหาคำตอบ $12 - 12 =$

ข้อที่ 109) จงหาคำตอบ $20 + 3 =$

ข้อที่ 110) จงหาคำตอบ $20 - 19 =$

ข้อที่ 111) จงหาคำตอบ $5 - 5 =$

ข้อที่ 112) จงหาคำตอบ $18 - 13 =$

ข้อที่ 113) จงหาคำตอบ $15 + 17 =$

ข้อที่ 114) จงหาคำตอบ $3 - 3 =$

ข้อที่ 115) จงหาคำตอบ $16 + 3 =$

ข้อที่ 116) จงหาคำตอบ $6 - 6 =$

ข้อที่ 117) จงหาคำตอบ $4 + 0 =$

ข้อที่ 118) จงหาคำตอบ $3 - 3 =$

ข้อที่ 119) จงหาคำตอบ $4 - 4 =$

ข้อที่ 120) จงหาคำตอบ $5 + 17 =$



ครูย์ www.ontous.info

ชื่อ-สกุล			
ชั้นเรียน		เลขที่	
คะแนนที่ได้		วันที่	

คำชี้แจง : จงหาผลลัพธ์ที่กำหนดให้ในแต่ละข้อ

ข้อที่ 121) จงหาคำตอบ $18 - 6 =$

ข้อที่ 122) จงหาคำตอบ $6 + 11 =$

ข้อที่ 123) จงหาคำตอบ $4 - 4 =$

ข้อที่ 124) จงหาคำตอบ $14 - 9 =$

ข้อที่ 125) จงหาคำตอบ $11 - 1 =$

ข้อที่ 126) จงหาคำตอบ $5 - 5 =$

ข้อที่ 127) จงหาคำตอบ $13 + 20 =$

ข้อที่ 128) จงหาคำตอบ $12 + 15 =$

ข้อที่ 129) จงหาคำตอบ $9 - 4 =$

ข้อที่ 130) จงหาคำตอบ $4 - 2 =$


ข้อที่ 131) จงหาคำตอบ $8 - 8 =$

ข้อที่ 132) จงหาคำตอบ $1 - 1 =$

ข้อที่ 133) จงหาคำตอบ $12 + 17 =$

ข้อที่ 134) จงหาคำตอบ $15 + 11 =$

ข้อที่ 135) จงหาคำตอบ $9 + 9 =$



ครูย์ www.ontous.info

ชื่อ-สกุล			
ชั้นเรียน		เลขที่	
คะแนนที่ได้		วันที่	

คำชี้แจง : จงหาผลลัพธ์ที่กำหนดให้ในแต่ละข้อ

ข้อที่ 136) จงหาคำตอบ $20 - 4 =$

ข้อที่ 137) จงหาคำตอบ $12 + 16 =$

ข้อที่ 138) จงหาคำตอบ $18 + 19 =$

ข้อที่ 139) จงหาคำตอบ $14 + 9 =$

ข้อที่ 140) จงหาคำตอบ $12 + 1 =$

ข้อที่ 141) จงหาคำตอบ $17 - 6 =$

ข้อที่ 142) จงหาคำตอบ $7 + 4 =$

ข้อที่ 143) จงหาคำตอบ $7 + 9 =$

ข้อที่ 144) จงหาคำตอบ $20 + 18 =$

ข้อที่ 145) จงหาคำตอบ $3 - 3 =$

ข้อที่ 146) จงหาคำตอบ $9 - 0 =$

ข้อที่ 147) จงหาคำตอบ $20 + 17 =$

ข้อที่ 148) จงหาคำตอบ $8 + 15 =$

ข้อที่ 149) จงหาคำตอบ $4 - 1 =$

ข้อที่ 150) จงหาคำตอบ $15 + 9 =$